



3.º grado | Ficha N.º 5

Estudiante

Fecha

Juego con billetes y monedas





¿Qué voy a aprender?

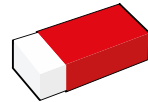
Aprenderé a representar, con monedas y billetes, la cantidad de dinero que recibió la mamá de Julia por la venta de sus productos en cada tienda, y hallar la cantidad total.



¿Qué voy a necesitar?

Hojas de
reúso

Lápiz



Borrador

Billetes y monedas en papel,
que podré elaborar

¿Qué debo tener en cuenta para desarrollar mi actividad?

El reto que tendré hoy será:

- Representar cantidades con billetes y monedas.
- Hallar la cantidad total que represente y comparar dichas cantidades.

¡Verás que será muy divertido! Si no puedes hacerlo sola o solo, recuerda que puedes pedir ayuda al adulto que te acompaña.

INTERMEDIO



Desarrollo de la actividad

La mamá de Julia prepara queques muy ricos, y los vende a distintas tiendas. Ella recibió, de tres tiendas, billetes y monedas por la venta de sus queques.

De la tienda de don Pepito, recibió 1 billete de 100 soles, 3 billetes de 50 soles, 6 monedas de 5 soles y 3 monedas de 1 sol.



Responde:

- ¿Te serviría dibujar los billetes y las monedas?, ¿por qué?

- ¿Cómo puedes hallar la cantidad total que recibió de la tienda de don Pepito?

Para poder hallar el total, Julia realizó las siguientes agrupaciones:

↓

100

↓

100

↓

50

↓

30

↓

3

↓

200

↓

80

↓

3

Finalmente, halló la cantidad que recibió de la tienda de don Pepito:

$$\begin{array}{r}
 200 + \\
 80 \\
 3 \\
 \hline
 283
 \end{array}$$



Ahora, ayuda a Julia a hallar la cantidad total que recibió su mamá de la tienda de doña Angélica, en donde le entregaron 2 billetes de 50 soles y 15 monedas de 2 soles.


- ¿Qué agrupaciones puedes formar? Dibújalas o escríbelas.

- ¿Cómo hallarás el total que recibió de doña Angélica?

Por último, de la tienda de don Fabricio, recibió 2 billetes de 100 soles, 6 billetes de 20 soles, 8 monedas de 5 soles y 7 monedas de 1 sol.

- ¿Cuánto fue el total que recibió de esta tienda?

- Ahora, ¿en qué tienda recibió más dinero y en cuál menos?





Pienso y resuelvo

La frase chistosa

Tacha las letras cada tres lugares y encontrarás una frase. Observa el ejemplo:



H O ~~X~~ Y N ~~X~~ O S F A B O I A R Q U C E P I O N L E R B
M E S Y M R E P T U S G E C H O N Y T E V N T M O

Escribe la frase que hallaste:

Reflexiono sobre mis aprendizajes

Te invitamos a reflexionar sobre los criterios que has logrado y sobre lo que necesitas mejorar.

Al resolver	Lo logré.	Lo estoy intentando.	¿En qué necesito mejorar?
Representé cantidades usando billetes y monedas.			
Hallé la cantidad de dinero que recibió la mamá de Julia en cada tienda.			
Comparé y hallé en qué tienda recibió más dinero y en cuál, menos.			

